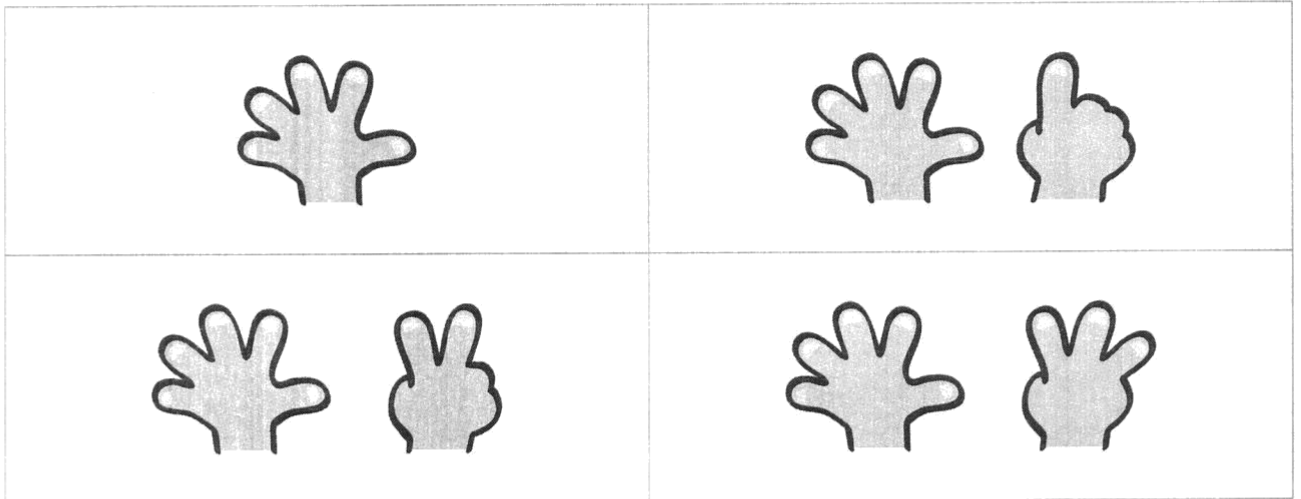


ATIVIDADE 2.3

QUANDO QUEREMOS MOSTRAR NOSSA IDADE, USAMOS NÚMEROS.
EM QUAL DAS FOTOS ABAIXO O NÚMERO DE DEDOS LEVANTADOS INDICA
SUA IDADE?



VAMOS RESPONDER:

▪ QUANTOS ANOS VOCÊ TEM?

▪ QUANTOS ALUNOS DA NOSSA CLASSE TÊM 6 ANOS?

▪ HÁ ALUNOS COM 7 ANOS? QUANTOS SÃO?

▪ QUANTOS ALUNOS TÊM MAIS DE 7 ANOS?

ATIVIDADE 2.4

OS NÚMEROS TAMBÉM SERVEM PARA INDICAR EM QUE DIA DO MÊS ESTAMOS.
QUE DIA É HOJE?

QUE TAL CONSTRUIRMOS O CALENDÁRIO DO MÊS EM QUE ESTAMOS?

MÊS DE _____						
DOMINGO	SEGUNDA- FEIRA	TERÇA- FEIRA	QUARTA- FEIRA	QUINTA- FEIRA	SEXTA- FEIRA	SÁBADO


▪ QUANTOS DIAS TEM ESTE MÊS?

▪ QUANTOS SÃO OS DOMINGOS?

▪ QUANTAS SÃO AS SEXTAS-FEIRAS?

SEQUÊNCIA 3

SAPATOS, TELEFONES E CASAS



ATIVIDADE 3.1

UM MENINO CHAMADO PEDRO ANOTOU OS NÚMEROS DE SAPATOS DELE E DAS PESSOAS DE SUA FAMÍLIA. OBSERVE:


 PEDRO	31	 EDUARDO	40
 ESTELA	36	 NINA	36
 ALICE	28	 MARCELO	38

▪ QUEM CALÇA O MAIOR NÚMERO DE SAPATO?

▪ E O MENOR?

ATIVIDADE 3.4

OBSERVE ALUNOS QUE ESTÃO NA FILA:



ANDRÉ, PAULO, MATEUS, BRUNO, DANIEL, LUCAS, TIAGO E JÚLIO

RESPONDA:


A. QUEM É O PRIMEIRO DA FILA?

B. QUEM É O QUARTO ALUNO DA FILA?

C. E QUEM É O SÉTIMO ALUNO DA FILA?

ATIVIDADE 5.2

IMAGINE QUE OUTRA TURMA DA ESCOLA COLECIONOU AS TAMPINHAS DESENHADAS ABAIXO. CONTE QUANTAS FORAM.



▪ QUANTAS TAMPINHAS SÃO AZUIS? _____

▪ QUANTAS TAMPINHAS SÃO VERMELHAS? _____

JUNTO COM UM COLEGA, USEM TAMPINHAS E SEPAREM A MESMA QUANTIDADE QUE AS DESENHADAS ACIMA.

ATIVIDADE 5.3

DESENHE TAMPINHAS DE ACORDO COM O QUE É PEDIDO EM CADA QUADRO.

14 TAMPINHAS VERDES

17 TAMPINHAS AZUIS

QUANTAS TAMPINHAS AZUIS HÁ A MAIS QUE AS VERDES?
