


**Questão 01**

M020095H6

Observe abaixo os livros que Márcia organizou em sua estante.



Quantos livros, ao todo, Márcia organizou em sua estante?

- A 5
- B 9
- C 11
- D 12

**Questão 02**

M040322H6

Observe abaixo a sequência dos números. Ela segue um padrão.

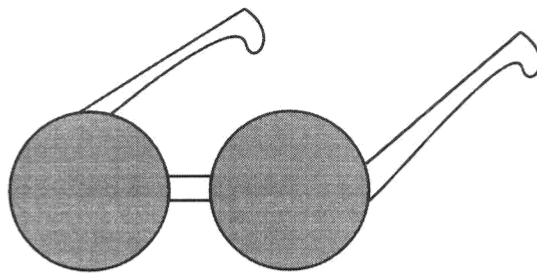
\_\_\_ - 20 - 25 - 30 - 35 - 40

Qual é o número que completa essa sequência?

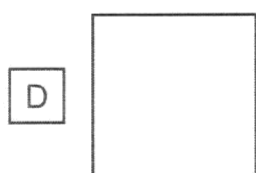
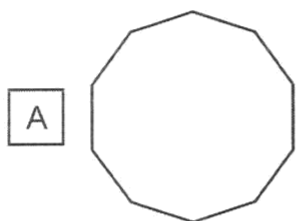
- A 10
- B 15
- C 18
- D 19

## Questão 03

Observe abaixo o desenho das lentes dos óculos.



A forma dessas lentes dos óculos, em cinza, lembra qual figura geométrica?



**Questão 04**

Observe o número no quadro abaixo.

874
-----

Uma das decomposições desse número é

- A  $8 + 7 + 4$
- B  $800 + 70 + 4$
- C  $800 + 700 + 40$
- D  $8\ 000 + 700 + 4$

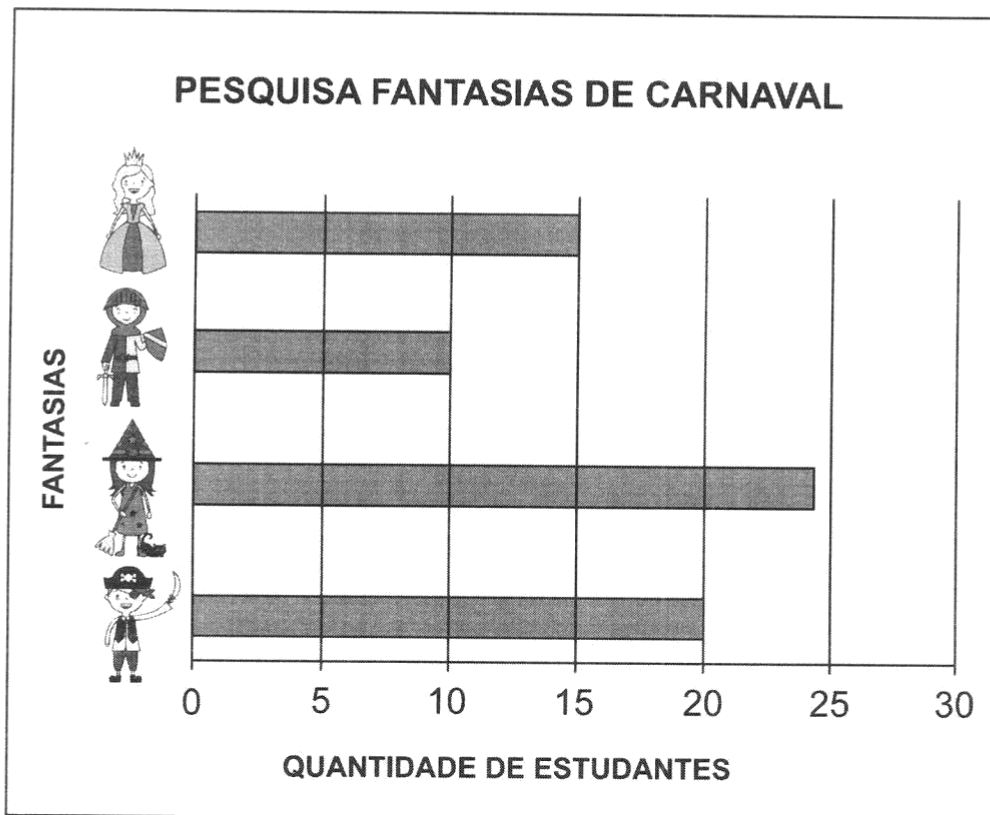
**Questão 05**

Lívia tem 9 batons e Amanda tem 7.  
Quantos batons Lívia e Amanda têm juntas?

- A 2
- B 15
- C 16
- D 63

## Questão 06

Observe abaixo o gráfico que apresenta o resultado de uma pesquisa feita por uma professora sobre as fantasias preferidas pelos estudantes de uma escola.



De acordo com esse gráfico, qual foi a fantasia menos escolhida pelas crianças?



**Questão 07**


Marcelo comprou uma caixa com 20 bombons e dividiu igualmente com seus 4 filhos. Quantos bombons cada filho de Marcelo ganhou?

- A 5
- B 16
- C 24
- D 80

### Questão 08

M020421E4

Observe abaixo as borboletas que Paula desenhou.



Quantas borboletas Paula desenhou ao todo?

- A 4
- B 8
- C 11
- D 12

### Questão 09

M031088H6

Observe os números no quadro abaixo.

9 - 2 - 4 - 7
---------------

Qual desses números é o menor?

- A 9
- B 2
- C 4
- D 7

**Questão 10**

M020128H6

Observe a operação abaixo.

$$68 - 25$$

Qual é o resultado dessa operação?

- A 16
- B 34
- C 43
- D 93

**Questão 11**

M030154G5

Observe abaixo a nota que Marta ganhou de presente de aniversário.



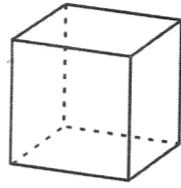
Ela trocou essa nota por outras de 20 reais.

Quantas cédulas de 20 reais Marta recebeu nessa troca?

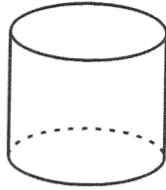
- A 100
- B 20
- C 10
- D 5

## Questão 12

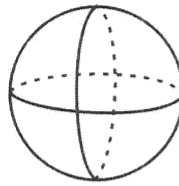
Observe os sólidos geométricos abaixo.



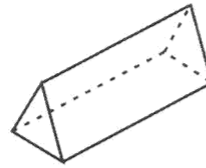
I



II



III



IV

Qual desses sólidos geométricos é uma esfera?

A I

B II

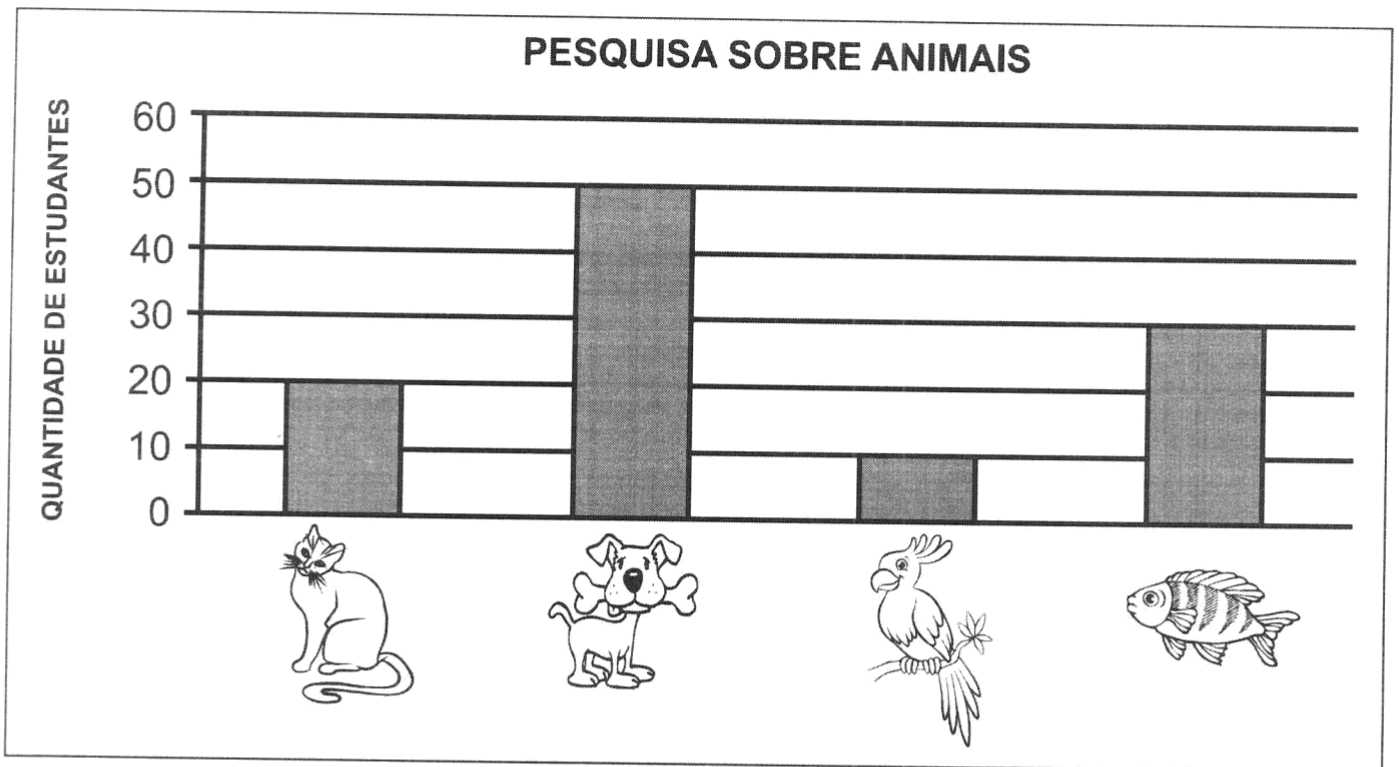
C III

D IV







## Questão 13

O gráfico abaixo apresenta o resultado de uma pesquisa feita em uma escola sobre os animais de estimação que as crianças têm em casa.



De acordo com esse gráfico, qual foi o animal mais escolhido pelas crianças?

- A 
- B 
- C 
- D 

**Questão 14**

Monique percorreu 10 quilômetros em um torneio de corrida com um trajeto total de 65 quilômetros. Quantos quilômetros Monique ainda precisa percorrer para completar essa corrida?

- A 10
- B 50
- C 55
- D 75

**Questão 15**

M040058H6

Observe abaixo o desenho de um globo terrestre.



A forma desse globo terrestre se assemelha a qual sólido geométrico?

- A CILINDRO.
- B CUBO.
- C ESFERA.
- D PIRÂMIDE.

**Questão 16**

MEF0036PC

Resolva a conta abaixo.

$$31 - 15$$

O resultado dessa conta é



- A 16.
- B 17.
- C 24.
- D 26.

Questão 17

M0301

M020794H6

Observe abaixo a quantidade de acessórios que quatro amigas compraram.



Qual é a ordem das amigas, da que comprou a maior quantidade de acessórios para a que comprou a menor quantidade de acessórios?


- A CAROLINA – ALESSANDRA – LUCÍLIA – VANDA.
- B CAROLINA – LUCÍLIA – ALESSANDRA – VANDA.
- C VANDA – ALESSANDRA – LUCÍLIA – CAROLINA.
- D VANDA – LUCÍLIA – ALESSANDRA – CAROLINA.

**Questão 18**

M0301

M040074L

O desenho abaixo representa uma caixa de bombons.



Luiza comprou 10 caixas iguais a essa para a festa de aniversário de sua filha. Quantos bombons Luiza comprou ao todo para essa festa?

- A 10
- B 18
- C 40
- D 80

**Questão 19**

M031051H6

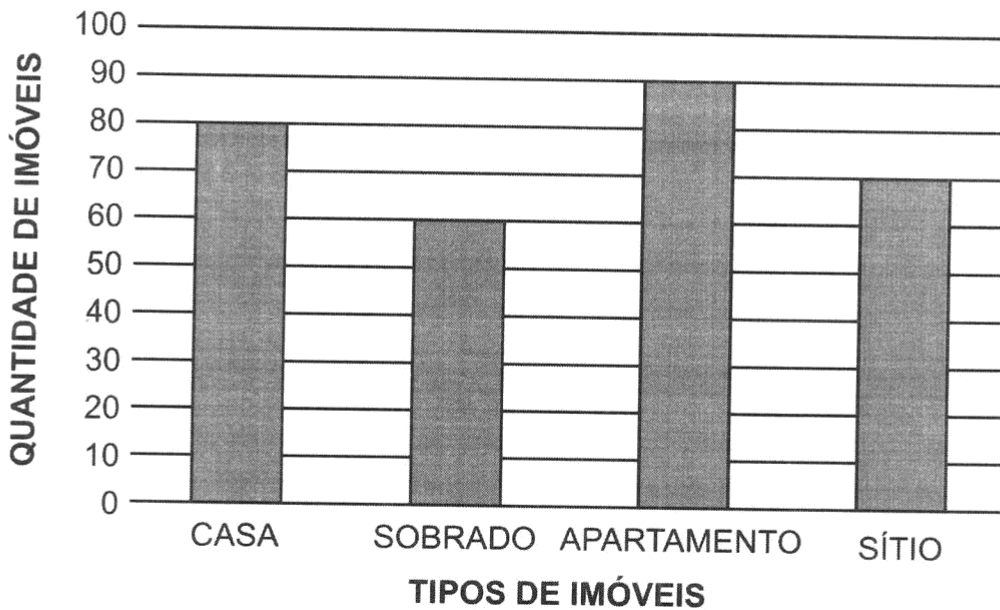
O número 54 é antecessor de qual número?

- A 44
- B 53
- C 55
- D 65

## Questão 20

M030569H6

Pedro trabalha em uma imobiliária e registrou, no gráfico abaixo, a quantidade total de imóveis disponíveis para venda, distribuída por tipo de imóvel.



De acordo com esse gráfico, quantos apartamentos estão disponíveis para venda nessa imobiliária?

- A 60
- B 70
- C 80
- D 90

## Questão 21

M031096H6

As professoras de uma escola fizeram um campeonato de soletrar palavras. A turma C acertou 50 palavras e a turma D acertou metade dessa quantidade.

Quantas palavras a turma D acertou nesse campeonato?

- A 50
- B 48
- C 25
- D 20