

## REVISÃO DE PORTUGUÊS– 4º ANO

Aluno(a): \_\_\_\_\_

Professor(a): \_\_\_\_\_ Data: \_\_\_\_\_/\_\_\_\_\_/\_\_\_\_\_

### A GALINHA E OS OVOS DE OURO

*Esopo (com adaptações)*

Certa manhã, o fazendeiro Claudionor descobriu que sua galinha Griselda tinha posto um ovo de ouro. Apanhou o ovo, correu para casa, mostrou-o à sua mulher Matilde, dizendo:

\_\_ Veja Matilde! Estamos ricos!

Levou o ovo ao mercado e vendeu-o por um bom preço.

Na manhã seguinte, a galinha pôs outro ovo de ouro, que o fazendeiro vendeu a melhor preço. E assim aconteceu durante muitos dias. Mas, quanto mais rico ficava o fazendeiro, mais dinheiro queria. E pensou:

"Se esta galinha põe ovos de ouro, dentro dela deve haver um tesouro!"

Matou a galinha e, por dentro, ela era igual a qualquer outra.

**Moral:** Quem tudo quer tudo perde.

#### 01-O homem ficou rico porque :

- ( A ) apanhou o ovo, correu para casa e mostrou para a esposa.
- ( B ) descobriu que tinha no quintal uma galinha que botava ovos.
- ( C ) matou uma galinha que tinha um tesouro dentro da barriga.
- ( D ) vendeu ovos de ouro no mercado durante vários dias.

#### 02- A história trata, principalmente, da :

- ( A ) esperteza.
- ( B ) ganância.
- ( C ) ignorância.
- ( D ) maldade

#### 03 - O fazendeiro resolveu matar a galinha porque :

- ( A ) achou que ela escondia um tesouro.
- ( B ) descobriu que ela botava ovos comuns.
- ( C ) percebeu que ela era igual às outras galinhas.
- ( D ) vendeu o segundo ovo por melhor preço

#### 04-O texto "A GALINHA E OS OVOS DE OURO" é :

- ( A ) uma carta.
- ( B ) um conto de fadas.
- ( C ) uma fábula.
- ( D ) um bilhete

**05-O fazendeiro acreditou que dentro da galinha havia:**

- ( A ) carne.
- ( B ) dinheiro.
- ( C ) ovos.
- ( D ) tesouro

### OS PREGUIÇOSOS

Dois preguiçosos estão sentados, cada um na sua cadeira de balanço, sem vontade nem de balançar. Um deles diz:

- Será que está chovendo?

O outro:

- Acho que está.

- Será?

- Não sei.

- Vai lá fora ver.

- Eu não. Vai você.

- Eu não.

- Chama o cachorro.

- Chama você.

- Tupi!

O cachorro entra da rua e senta entre os dois preguiçosos.

- E então?


- O cachorro tá seco...

**06. Qual a frase do texto que termina com um ponto de interrogação?**

- ( A ) Será que está chovendo?
- ( B ) O outro:
- ( C ) Acho que está.
- ( D ) Tupi!
- ( E ) O cachorro tá seco...

**07. Qual o significado do ponto de interrogação na frase: - Será que está chovendo?**

- ( A ) A dúvida da personagem.
- ( B ) A alegria da personagem.
- ( C ) A surpresa da personagem.
- ( D ) A introdução da fala da personagem.



João saiu cedo de carro.  
Ele levou seu cachorro ao veterinário.

08- No texto, a palavra “ Ele “ está substituindo:

- (A) cachorro
- (B) carro
- (C) João
- (D) veterinário

09- Quando João saiu de carro?

- (A) De manhã
- (B) Ao meio - dia
- (C) À tarde
- (D) À noite

Leia o texto e responda a pergunta.



Copyright © 2002 Mauricio de Sousa Produções Ltda. Todos os direitos reservados.

6614

10-O que faz a historinha ficar engraçada:

- (A) A esperteza do Chico Bento.
- (B) A inocência do Chico Bento.
- (C) O medo que Chico tem da professora
- (D) O susto dado na professora.

Leia o texto e marque a resposta certa:

### Uma pequena trabalhadora do Brasil

Mariana acorda às quatro horas da manhã, toma um pouco de café e, depois, entra num caminhão que a leva para o trabalho. Leva algumas horas para chegar à lavoura. Trabalha o dia todo cortando cana e pára só para almoçar a comida, já fria, que sua mãe preparou pela manhã.

A menina tem apenas oito anos e chega a passar 12 horas fora de casa. Ela pode se machucar gravemente ao manejar o facão, uma vez que esse é muito pesado. O risco aumenta com o cansaço. Depois de tanto cortar cana debaixo do sol quente, ela acaba não prestando atenção ao que está fazendo.

11-Risque o quadrinho que mostra uma IDEIA defendida no texto.

- (A) Criança corre risco de acidente ao trabalhar cortando cana.
- (B) Crianças precisam ficar perto de seus pais enquanto trabalham.
- (C) É permitido que crianças trabalhem até 12 horas por dia no campo.
- (D) Todo mundo tem direito de se alimentar com comida quente.

ALUNO (A) \_\_\_\_\_

PROFESSOR (A) \_\_\_\_\_ DATA \_\_\_\_/\_\_\_\_/\_\_\_\_

### QUESTÃO 1

A Austrália levou para os jogos 22 jogadores e 7 pessoas da equipe técnica, em um ônibus com 45 lugares. Quantos lugares sobraram?

- (A) 16.
- (B) 23.
- (C) 30.
- (D) 74.


### QUESTÃO 2

Um número tem 8 unidades de milhar, 3 centenas, 1 dezena e 9 unidades. O número composto é

- (A) 319.
- (B) 831.
- (C) 8 319.
- (D) 9 138.

### QUESTÃO 3

Gabriel foi comprar um refrigerante para o almoço. Sabendo que cada litro corresponde a 1000ml.



Ele comprou esta garrafa de 2 litros. Quantos mililitros (ml) de refrigerante há na garrafa?

- A) ( ) 2                      B) ( ) 20                      C) ( ) 200                      D) ( ) 2000

#### QUESTÃO 4

Em um vestiário há 12 camisas e em outro, há o dobro desse número. Quantas camisas há no outro vestiário?

- (A) 42
- (B) 24
- (C) 21
- (D) 14

#### QUESTÃO 5

Nazareth resolveu a multiplicação do quadro e acertou.

$$\begin{array}{r} 402 \\ \times 5 \\ \hline \end{array}$$

O resultado foi

- (A) 2000.
- (B) 2001.
- (C) 2010.
- (D) 2060.

#### QUESTÃO 6

A cerimônia de inauguração do monumento do Cristo Redentor aconteceu no dia 12 de outubro de 1931. No número 1931, o valor relativo do algarismo é

- (A) 9000.
- (B) 900.
- (C) 90.
- (D) 9.

#### QUESTÃO 7

Observe a tabela abaixo:

PRODUTOS	PREÇO
CORNETA	R\$ 3,50
BONÉ	R\$ 8,50
CHAVEIRO	R\$ 2,00

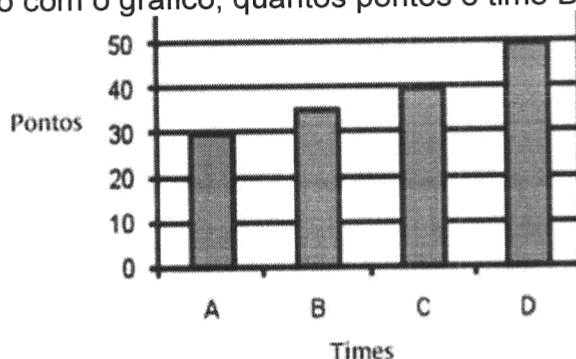
Fátima foi a uma loja e comprou uma corneta e um boné. Ela gastou:

- (A) R\$ 12,00.
- (B) R\$ 13,00.
- (C) R\$ 13,50.
- (D) R\$ 14,00.

**QUESTÃO 8**

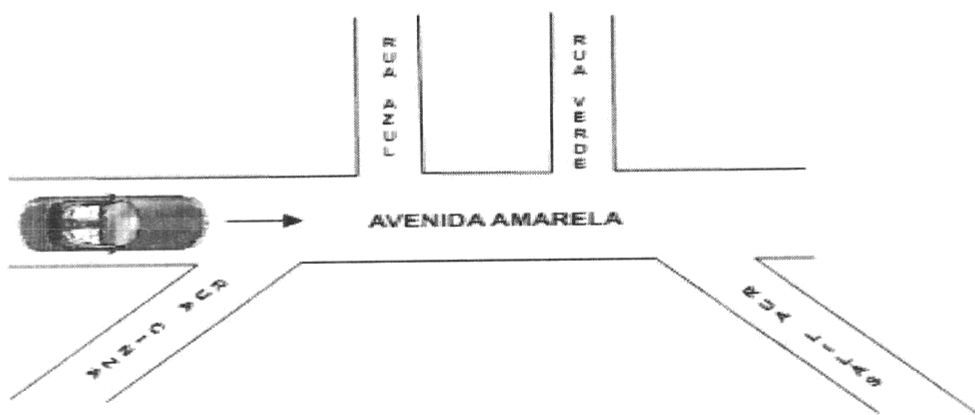
O gráfico abaixo mostra a quantidade de pontos feitos pelos times A, B, C e D no campeonato de futebol da escola. De acordo com o gráfico, quantos pontos o time B conquistou?

- (A) 50
- (B) 40
- (C) 35
- (D) 30



**QUESTÃO 09**

Veja abaixo uma parte do mapa da Cidade das Cores. Um carro estava na Avenida Amarela e entrou na primeira rua à esquerda.



Esse carro entrou na rua

- (A) azul
- (B) cinza
- (C) lilás
- (D) verde

### QUESTÃO 10

Lara trocou R\$ 10,00 por 4 notas do mesmo valor e 4 moedas do mesmo valor. Quais notas e moedas Lara recebeu nessa troca?

A) ( )



B) ( )



C) ( )



D) ( )



BOA PROVA!

