

ATIVIDADES DE REVISÃO / PORTUGUÊS

NOME: _____ ANO: _____

PROFESSOR: _____

Texto 1

TELEVISÃO

Televisão é uma caixa de imagens que fazem barulho. Quando os adultos não querem ser incomodados, mandam as crianças irem assistir à televisão. O que eu gosto mais na televisão são os desenhos animados de bichos. Bicho imitando gente é muito mais engraçado do que gente imitando gente, como nas telenovelas. Não gosto muito de programas infantis com gente fingindo de criança. Em vez de ficar olhando essa gente brincar de mentira, prefiro ir brincar de verdade com meus amigos e amigas. Também os doces que aparecem anunciados na televisão não têm gosto de coisa alguma porque ninguém pode comer uma imagem. Já os doces que minha mãe faz e que eu como todo dia, esses sim, são gostosos. Conclusão: A vida fora da televisão é melhor do que dentro dela. (José Paulo Paes)

Leia o texto 1 para marcar a opção correta das questões de 1 a 4.

Questão 01

Qual o meio de comunicação ao qual o texto se refere?

- (A) Rádio
- (B) Livro
- (C) Televisão
- (D) Internet

Questão 02

A que conclusão o autor chega ao final do texto?

- (A) A televisão é o melhor passatempo que existe
- (B) É melhor ser criança do que adulto
- (C) A vida fora da televisão é melhor do que dentro dela
- (D) Os doces anunciados na televisão têm gosto de infância

Questão 03

A definição de “televisão” dada pelo autor é:

- (A) Uma fonte de conhecimento.
- (B) Uma ajuda na educação dos filhos.
- (C) Uma tela que revela paisagens.
- (D) Uma caixa de imagens que faz barulho.

Questão 04

No trecho: “A vida fora da televisão é melhor do que dentro dela”.

A palavra sublinhada refere-se a que:

- (A) Vida
- (B) Televisão
- (C) A criança
- (D) A novela

Questão 05

Retire do texto uma frase que confirma que o narrador não gostava de televisão:

Questão 06

Coloque (V) para verdadeiro e (F) para falso:

- () Segundo o texto, Bicho imitando gente é engraçado.
- () O que o narrador mais gosta na televisão são os desenhos animados de bichos.
- () O narrador não gosta dos doces que a mãe prepara.
- () Os adultos não deixam as crianças assistir à televisão.

A ordem correta da atividade acima é:

- (A) F, F, F, V
- (B) V, V, F, F
- (C) F, V, F, V
- (D) V, F, V, V

Questão 07

Qual a crítica que o narrador faz em relação aos doces anunciados na televisão?

Texto 2

O leão e o ratinho - Esopo

Um leão, cansado de tanto caçar, dormia espichado debaixo da sombra boa de uma árvore. Vieram uns ratinhos passear em cima dele e ele acordou. Todos conseguiram fugir, menos um, que o leão prendeu debaixo da pata. Tanto o ratinho pediu e implorou que o leão desistiu de esmagá-lo e deixou que fosse embora. Algum tempo depois o leão ficou preso na rede de uns caçadores. Não conseguindo se soltar, fazia a floresta inteira tremer com seus urros de raiva. Nisso apareceu o ratinho, e com seus dentes afiados roeu as cordas e soltou o leão.

Moral: uma boa ação ganha outra. (fonte: ESOPO. O leão e o ratinho).

Leia o texto 2 para marcar a opção correta das questões de 08 e 09.

Questão 08

O final da história começa quando:

- (A) O ratinho apareceu e conseguiu soltar o leão.
- (B) O leão urrava de raiva, fazendo a floresta tremer.
- (C) O leão ficou preso numa rede de caçadores
- (D) O ratinho pediu ao leão que o soltasse.

Questão 09

Assinale a alternativa que apresenta em ordem os acontecimentos da fábula.

(A) Um leão descansa e os ratinhos vêm perturbá-lo. Um ratinho negociou sua liberdade e prometeu ajudar o leão quando fosse necessário. Um dia isto acontece: o leão está preso numa rede e o ratinho salva-o.

(B) Um leão, ao descansar, é perturbado por uns ratinhos que passeiam em seu corpo. Um ratinho, que ficou preso nas patas do leão, recebeu dele a misericórdia. Um dia é o leão que está preso numa rede de caçadores e o ratinho salva-o, roendo as cordas.

(C) Um leão descansa depois de caçar. Uns ratinhos perturbam-no. O leão fica preso numa rede de caçador, mas um dos ratinhos, que é seu amigo, vem ajudá-lo, roendo as cordas e libertando-o.

(D) Um leão, ao ficar preso, numa rede de caçadores, pediu ajuda a um dos ratinhos que já tinha sido salvo pelo felino, quando eles passeavam nas costas do mesmo que descansava após uma caçada.

Texto 3



Copyright © 1999 Mauricio de Sousa Produções Ltda. Todos os direitos reservados.

8-490

Questão 10

A tirinha de Magali faz referência a uma história bíblica. Que elemento NÃO pertence à história original?

- (A) Maçã
- (B) Serpente
- (C) Magali
- (D) Árvore

Questão 11

A intenção do autor ao produzir essa tirinha é:

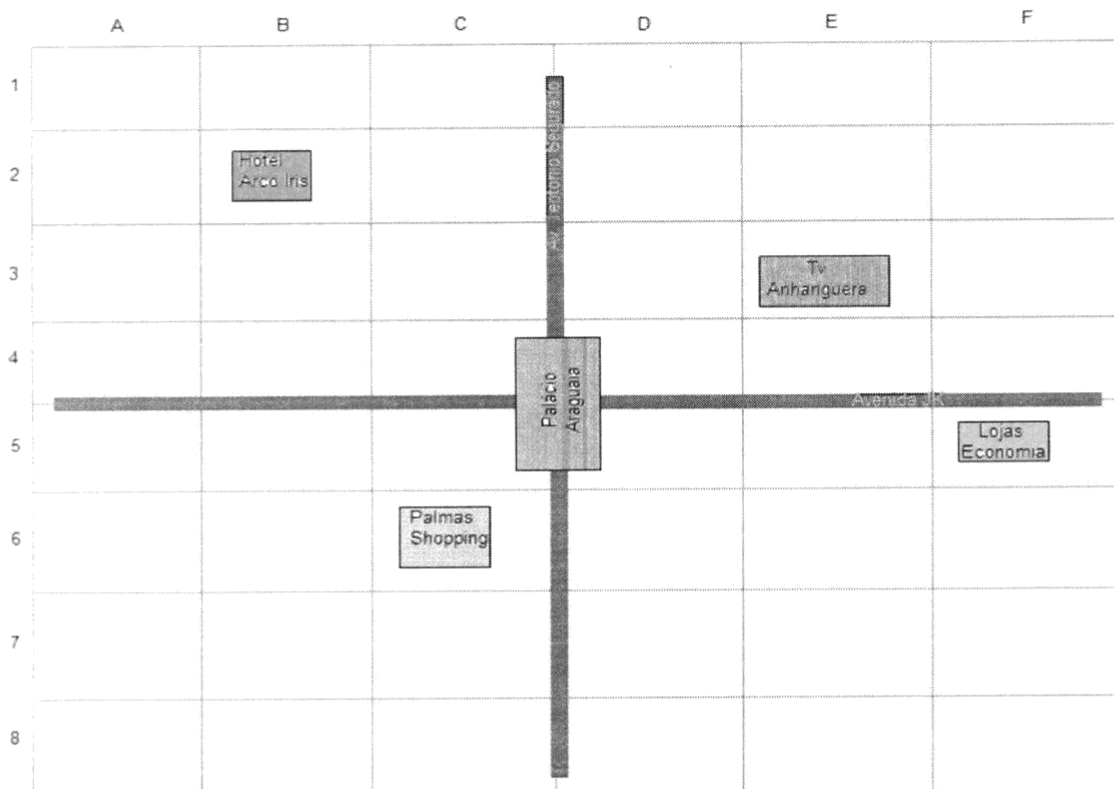
- (A) lembrar a história da criação humana utilizando-se novos personagens
- (B) usar Magali, a personagem gulosa, para brincar com a história.
- (C) revelar o que realmente ocorreu na história da bíblia.
- (D) esclarecer que não há Adão na história, somente a serpente e a mulher.

ATIVIDADES DE REVISÃO

NOME: _____ 5º ANO

PROFESSORA: _____

Questão 01



Na figura acima a localização do Palmas Shopping é

- (A) B2.
- (B) D6.
- (C) C6.
- (D) F5.

Questão 02

Adicionando: $2007 + 456$ encontraremos a resposta igual a

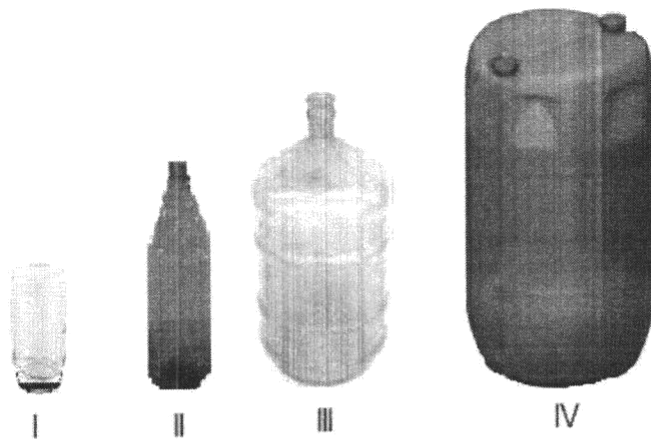
- (A) 2003
- (B) 2453
- (C) 2463
- (D) 6567

Questão 03

Observe as imagens abaixo com atenção:

Dos objetos representados ao lado a figura que representa menos de 1 litro de capacidade é

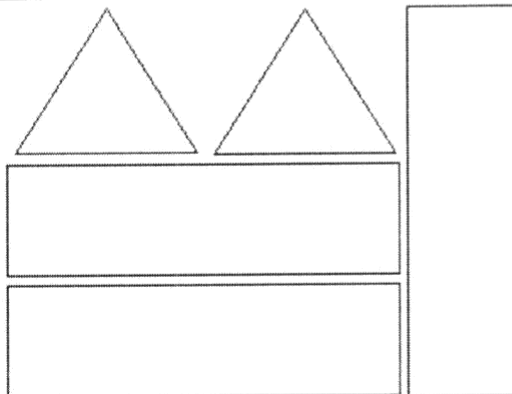
- (A) a figura I.
- (B) a figura II.
- (C) a figura III.
- (D) a figura IV.



Questão 04

Montando as peças ao lado formamos um sólido geométrico. O sólido geométrico formado recebe o nome de

- (A) prisma de base quadrada.
- (B) pirâmide de base quadrada.
- (C) pirâmide de base triangular.
- (D) prisma de base triangular.



Questão 05

Um caracol está no fundo de um poço de 18 metros de profundidade. Ele sobe 6 metros durante o dia, e desce 4 metros durante a noite enquanto dorme. Se o caracol continuar nesse ritmo, ele vai demorar um total de quantos dias para conseguir sair de dentro do poço?

- (A) 3 dias.
- (B) 4,5 dias.
- (C) 9 dias.
- (D) 10 dias.

Questão 06

Fabiana tem R\$ 300,00 em notas de cem reais, para comprar a calça e a blusa ilustrada na figura abaixo.



Fabiana receberá de troco

- (A) duas notas de cinquenta reais.
- (B) uma nota de cinquenta reais e duas de vinte.
- (C) uma nota de dez reais e duas de vinte.
- (D) uma nota de cinquenta reais e três de dez.

Questão 07

Carlos escreveu o número 84.632. Nesse número o algarismo 4 ocupa a ordem das

- (A) unidades simples.
- (B) dezenas simples.
- (C) centenas simples.
- (D) unidades de milhar.

Questão 08

Uma escola municipal recebeu uma doação de gibis, na qual foram doados 3 caixas com 1000 gibis, 7 caixas com 100 gibis, 4 pacotes com 10 gibis e mais 8 gibis. O total de gibis que essa escola ganhou é igual a

- (A) 1118.
- (B) 3748.
- (C) 8347.
- (D) 7843.

Questão 09

Mirian resolveu a multiplicação abaixo, mas apagou o resultado, observe:

$$\begin{array}{r} 1430x \\ \underline{\quad 6} \end{array}$$

O resultado dessa multiplicação é igual a

- (A) 6480.
- (B) 8580.
- (C) 8586.
- (D) 24080.

Questão 10

Uma floricultura vende em média 300 rosas vermelhas, 200 rosas amarelas e 350 cravos por dia.

Se essa floricultura vendeu em certo dia 200 rosas vermelhas, 200 rosas amarelas e 100 cravos, quantas flores NÃO foram vendidas nesse dia?

- (A) 350 flores.
- (B) 500 flores.
- (C) 850 flores.
- (D) 1350 flores.
- (D) 30.