



Apostila de
Matemática

1º ANO



1º ANO

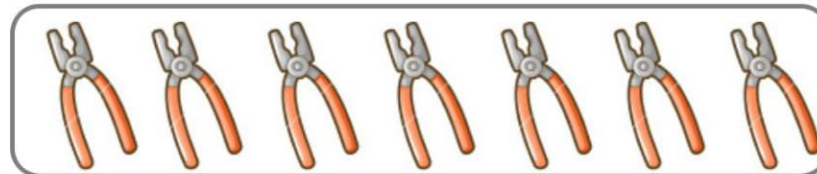
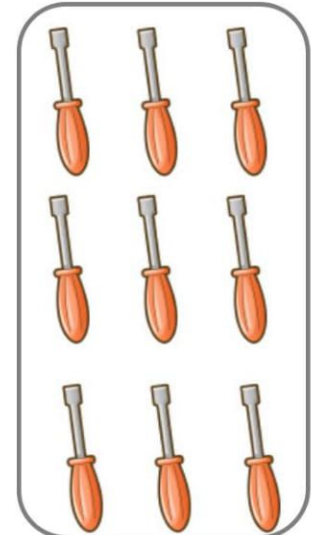



EU QUERO SER... CARPINTEIRO

BATE BATE MARTELINHO MAS
NÃO BATA FEITO CEGO.
CUIDADO COM O MEU DEDO QUE
O MEU DEDO NÃO É PREGO.

FRAGMENTO DE *PROFISSÕES*. JOSÉ PAULO PAES

EU SOU UM CARPINTEIRO. MINHA
ESPECIALIDADE É MADEIRA. CONHEÇA E
CONTE AS MINHAS FERRAMENTAS.





Empty rectangular box for student name

1º ANO



VITAMINA DE

FRUTAS INGREDIENTES:

4 BANANAS

2 MAÇAS

1 MAMÃO


1 LITRO DE LEITE

MODO DE FAZER:

1. EM UM LIQUIDIFICADOR MISTURE AS BANANAS, AS MAÇÃS SEM CASCA E O MAMÃO
2. DEPOIS ACRESCENTE O LEITE E BATA POR 3 MINUTOS PARA FICAR MAIS CREMOSO

<http://tudogostoso.uol.com.br/receita/49960-vitamina-de-frutas-tete-de-crianca.html>

AJUDE A PREPARAR A RECEITA.
RECORTE AS FRUTAS E COLOQUE-AS
NO LIQUIDIFICADOR.



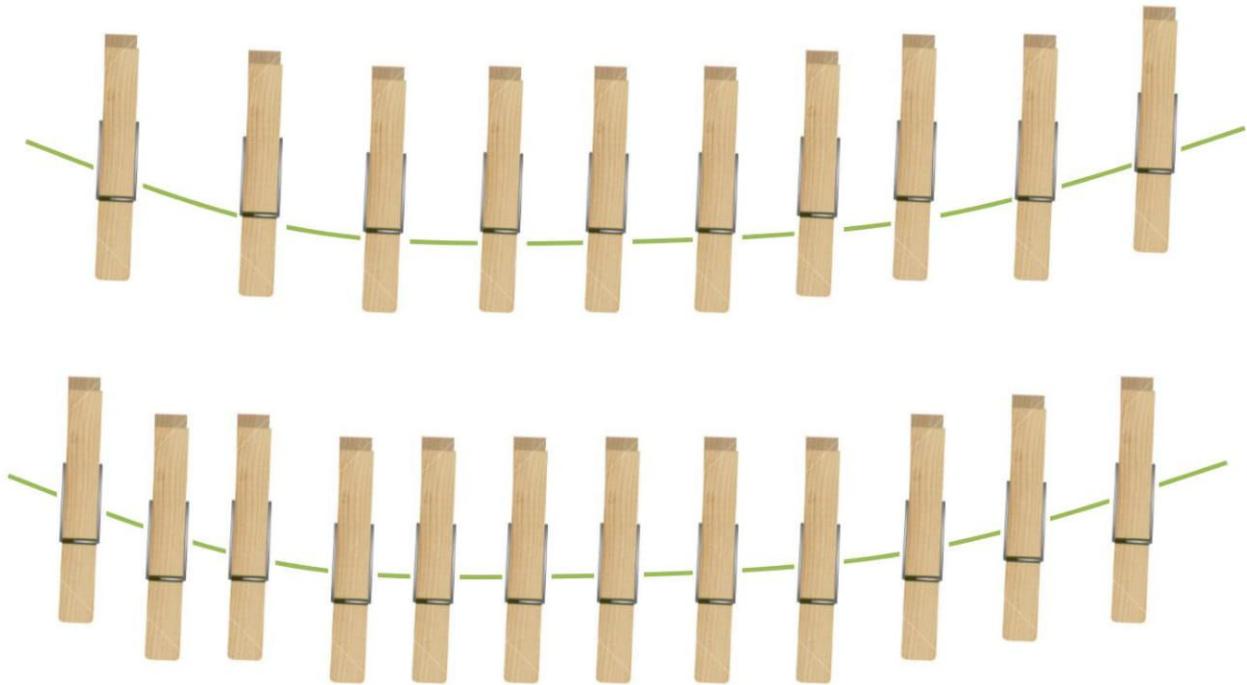


1º ANO



VARAL DE ROUPAS

MARIA AJUDA A SUA MÃE A ESTENDER AS ROUPAS NA CORDA.
ELA PRENDE AS ROUPAS COM PREGADORES.
DESCUBRA QUAL O VARAL QUE CONTÉM UMA DÚZIA DELES E ENFEITE-OS.



12345678910




1º ANO



FLORES

HELOISA ADORA FLORES. A SUA PREFERIDA É A ROSA VERMELHA.
COLE MEIA DÚZIA DE ROSAS NO VASO.
MEIA DÚZIA REPRESENTA A METADE DE UMA DÚZIA.



12345678910



1º ANO



LITRO

NÓS USAMOS 1 LITRO DE LEITE NA RECEITA DE VITAMINA DE FRUTAS.

O LITRO É UMA MANEIRA DE MEDIR O VOLUME QUE CABE EM CADA RECIPIENTE.

PESQUISE EM ENCARTES OUTROS PRODUTOS QUE USAMOS NO DIA A DIA QUE SÃO VENDIDOS A LITRO E ANOTE A MEDIDA DE CADA UM. VOCÊ CONSEGUE DESCOBRIR QUAL DELES TEM MAIOR VOLUME?



1 LITRO



12345678910





1º ANO



NOSSOS MATERIAIS



AJUDE O LUCAS A DESCOBRIR O TOTAL DE CADA MATERIAL. REGISTRE USANDO UM NÚMERO:

	+		=	<input type="text"/>
---	---	---	---	----------------------

	+		=	<input type="text"/>
---	---	---	---	----------------------

CONTE USANDO OS DEDINHOS.



	+		=	<input type="text"/>
---	---	---	---	----------------------






1º ANO



OS BRINQUEDOS DE MARIANA

MARIANA TINHA **6** BRINQUEDOS. NO SEU ANIVERSÁRIO GANHOU MAIS **2**.

QUANTOS BRINQUEDOS ELA TEM AGORA?



MARIANA

$$6 + 2 = \square$$



12345678910



NA LOJA DE BRINQUEDOS

UMA LOJA VENDE BRINQUEDOS. VEJA QUANTOS JÁ FORAM VENDIDOS E CALCULE QUANTOS SOBRARAM!



$$\underline{\quad\quad\quad} - \underline{\quad\quad\quad} = \underline{\quad\quad\quad}$$



$$\underline{\quad\quad\quad} - \underline{\quad\quad\quad} = \underline{\quad\quad\quad}$$



$$\underline{\quad\quad\quad} - \underline{\quad\quad\quad} = \underline{\quad\quad\quad}$$

EU QUERO COMPRAR UM URSINHO DE PELÚCIA!





1º ANO



JOGANDO BOLINHAS DE GUDE

LUCAS E JOÃO BRINCAM DE BOLINHAS DE GUDE JUNTOS. DESSA VEZ, LUCAS TROUXE 8 BOLINHAS E JOÃO 5. DESENHE AS BOLINHAS DE CADA UM. AGORA, DESCUBRA QUANTAS BOLINHAS JOÃO PRECISA GANHAR PARA TER A MESMA QUANTIDADE DE LUCAS.



LUCAS



JOÃO

JOÃO PRECISA GANHAR _____ BOLINHAS.



12345678910



1º ANO



CÁLCULO MENTAL




RESOLVA ESTES CÁLCULOS DO SEU JEITO. VOCÊ PODE USAR OS DEDOS OU ALGUM MATERIAL DE CONTAGEM.

5 - 3 =

4 - 1 =

6 - 5 =

8 - 4 =





1º ANO



NOSSO DINHEIRO



JÚLIA QUER COMPRAR UM URSINHO. VEJA O PREÇO NA ETIQUETA E RECORTE AS MOEDAS QUE ELA DEVERÁ USAR PARA PAGAR POR ELE:



R\$ 5,00





1º ANO



DIVIDINDO DINHEIRO

CARLA E CLÁUDIO SÃO IRMÃOS GÊMEOS. ELES FIZERAM ANIVERSÁRIO E GANHARAM DINHEIRO DA VOVÓ. ELES RESOLVERAM DIVIDI-LO. AJUDE OS IRMÃOS NESTA TAREFA, MAS NÃO SE ESQUEÇA DE UM DETALHE: CARLA SÓ QUER NOTAS DE 1 REAL E CLÁUDIO AS DE 2 REAIS. ELES DEVEM GANHAR O MESMO VALOR EM DINHEIRO:



12345678910



1º ANO



QUEM TEM MAIS DINHEIRO?

ESCREVA QUANTO CADA CRIANÇA TEM EM DINHEIRO E ENVOLVA A QUE TEM O MAIOR VALOR:



R\$



R\$



12345678910



Empty rectangular box for student name



QUANTAS RODAS HÁ?



UMA MOTO TEM _____ RODAS.

CONTE PARA OS SEUS COLEGAS COMO VOCÊ RESOLVEU A TAREFA.



DUAS MOTOS TÊM _____ RODAS.



TRÊS MOTOS TÊM _____ RODAS.



QUATRO MOTOS TÊM _____ RODAS.



CINCO MOTOS TÊM _____ RODAS.





1º ANO



VESTINDO A COELHINHA

ESTA É A COELHINHA LILI. ELA TEM 2 VESTIDOS E 3 PARES DE SAPATOS. AJUDE-A A COMBINAR OS VESTIDOS COM OS SAPATOS DE VÁRIAS FORMAS DIFERENTES. DEPOIS, MOSTRE AOS SEUS COLEGAS.



MEU VESTIDO
PREFERIDO É
O VERMELHO.




12345678910



QUANTAS CRIANÇAS VÃO COMER ROSQUINHAS?

UMA PROFESSORA QUER DAR **3** ROSQUINHAS PARA CADA CRIANÇA. ENVOLVA AS ROSQUINHAS EM GRUPOS DE TRÊS E EM SEGUIDA, DESCUBRA QUANTAS CRIANÇAS RECEBERÃO AS ROSQUINHAS?



DESENHE AS CRIANÇAS AQUI!



TOTAL DE ROSQUINHAS: _____ QUANTAS CRIANÇAS ? _____



12345678910




1º ANO




AGRUPANDO DEZENAS

QUANTAS BOLAS DE GUDE HÁ NESTA COLEÇÃO?



A QUANTIDADE **10** É CHAMADA DE DEZENA.

AGORA ENVOLVA AS BOLINHAS EM GRUPOS DE 10.



TOTAL DE BOLINHAS: _____

DEZENAS: _____



12345678910

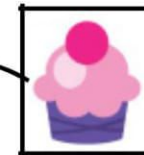

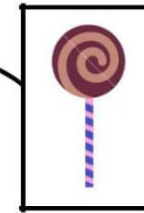


1º ANO



COLEÇÕES DE 10

DESENHE UMA DEZENA DE CADA DOCE:



12345678910