

APOSTILA DE MATEMÁTICA

3º ANOS



- Trabalhando com Matemática

3º ANO

Meu nome é _____ Hoje é dia ____/____/____.

Desafios animais



Uma coelha teve 3 ninhadas de filhotes este ano. A primeira com 8 coelhinhos, a segunda com 10 e a terceira com 6. Você consegue descobrir quantos coelhinhos esta coelha teve nestas 3 ninhadas?

MEU JEITO

OUTRO JEITO





- Trabalhando com Matemática

3º ANO

Meu nome é _____ Hoje é dia ____/____/____.



Em um zoológico havia cerca de 25 macacos. Foram trazidos mais 15 apreendidos em cativeiros ilegais. Agora, o grupo está maior. Precisarão de muitos cuidados. Cada um come, em média, 3 bananas por dia dentre outros alimentos. Responda: Quantos macacos têm agora no zoológico? E quantas bananas serão necessárias para alimentá-los diariamente?

MEU JEITO

OUTRO JEITO



Cativeiro ilegal é chamado o local onde se criam animais silvestres sem autorização do IBAMA (Instituto Brasileiro do Meio Ambiente e dos Recursos Naturais Renováveis).



- Trabalhando com Matemática

3º ANO

Meu nome é _____ Hoje é dia ____/____/____.



Os gatos dormem diariamente cerca de doze horas, mas não de uma só vez e sim aos pouquinhos. Caso, um gato qualquer já tivesse dormido quatro horas, quantas horas ainda poderia dormir no restante de um dia?

MEU JEITO

OUTRO JEITO





- Trabalhando com Matemática

3º ANO

Meu nome é _____ Hoje é dia ____/____/____.



Em uma fazenda há 27 pintinhos. Durante o dia eles ficam livres pelo galinheiro e à tardinha são presos para não serem comidos por algum animal à noite. Já é tarde e só foram encontrados 19 deles. Descubra quantos pintinhos ainda deverão ser procurados?

MEU JEITO

OUTRO JEITO





- Trabalhando com Matemática

3º ANO


Meu nome é _____ Hoje é dia ____/____/____.



Um tubarão-baleia pode medir até dezoito metros de comprimento e uma baleia azul, trinta metros. Qual dos dois animais é mais comprido? Quantos metros a mais?

MEU JEITO

OUTRO JEITO






- Trabalhando com Matemática

3º ANO

Meu nome é _____ Hoje é dia ____/____/____.



A cadela de Júlio teve doze filhotes. Ele deu alguns para seus vizinhos e amigos. Ainda há seis filhotes em sua casa. Você sabe quantos filhotes ele deu?

MEU JEITO

OUTRO JEITO





- Trabalhando com Matemática



3º ANO



Meu nome é _____ Hoje é dia ____ / ____ / ____.

Quantas patas tem um cavalo? E cinco cavalos, quantas patas têm?

MEU JEITO

OUTRO JEITO

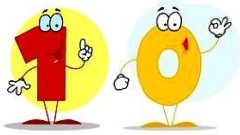




- Trabalhando com Matemática

3º ANO

Meu nome é _____ Hoje é dia ____/____/____.



Uma turma de 20 alunos foi ao zoológico. A professora disse que iria dividi-los em grupos de cinco crianças e um adulto para aproveitarem melhor o passeio. Todos os grupos iriam se encontrar ao final para lanche. Você sabe quantos grupos de cinco alunos foram formados?

MEU JEITO

OUTRO JEITO







- Trabalhando com Matemática

3º ANO

Meu nome é _____ Hoje é dia ____ / ____ / ____.



Um guia do zoológico dividiu estas máscaras entre três crianças visitantes. Todas receberam a mesma quantidade. Você sabe quantas máscaras cada criança recebeu?



MEU JEITO

OUTRO JEITO



Meu nome é _____ Hoje é dia ____/____/____.

Contando dinheiro

Conte e registre o valor em dinheiro que cada criança possui:

BRUNO




R\$

CLARA



R\$

JÉSSICA



R\$

Pense e responda:

Qual criança tem menor número de cédulas? _____

Qual delas tem menor valor em dinheiro? _____

Quem tem o valor equivalente a uma nota de _____ ? _____





Meu nome é _____ Hoje é dia ____ / ____ / ____.

Fazendo compras...

Antônio vai comprar uma televisão. Veja o preço de cada prestação e descubra dois jeitos diferentes de Antônio pagar a primeira prestação sem receber troco. Use as cédulas da próxima página.



1º JEITO

2º JEITO



3º ANO

Trabalhando com Matemática

Meu nome é _____ Hoje é dia ____/____/____.

Colocando em ordem

Guilherme coleciona figurinhas. Quando compra alguns pacotes, ele as organiza em ordem antes de colar. Ajude-o a colocar os números das figurinhas em **ordem crescente**:

302	05	500	290	39	358	147	619	483
-----	----	-----	-----	----	-----	-----	-----	-----





Meu nome é _____ Hoje é dia ____/____/____.

Aumentando a receita

Leia a receita abaixo e faça as tarefas solicitadas:

Poção de transformar príncipe em sapo

Ingredientes:

- 5 aranhas,
- 3 baratas,
- 10 pernas de mosquitos,
- 100 pernas de baratas vivas
- 1 copo de água
- sal.



Modo de fazer:

Coloque todos os ingredientes no caldeirão e deixe ferver. Sirva ao príncipe dizendo que trará sorte no amor.

Esta receita serve apenas um príncipe.

Reescreva os ingredientes para servir:

Dois príncipes:

Três príncipes:



Para aumentar a receita você está escrevendo o **DOBRO** e o **TRIPLO** da medida dos ingredientes.



Meu nome é _____ Hoje é dia ____/____/____.

Descobrimo o dobro

Complete a tabela e descubra o DOBRO dos números de 1 até 10:

	1	2	3	4	5	6	7	8	9	10
ADICIONAR O NÚMERO DUAS VEZES	1+1	2+2	3+3							
DOBRO	2	4								



Agora, converse com a sua turma e registre suas conclusões:

O que você observou na 2ª linha?

E na 3ª linha?



Meu nome é _____ Hoje é dia ____/____/____.

Descobrimo o triplo

Complete a tabela e descubra o TRIPLO dos números de 1 até 10:

	1	2	3	4	5	6	7	8	9	10
ADICIONAR O NÚMERO TRÊS VEZES	$1+1+1$	$2+2+2$	$3+3+3$							
TRIPLO	3	6								

Agora, converse com a sua turma e registre suas conclusões:

O que você observou na 2ª linha?


E na 3ª linha?






Meu nome é _____ Hoje é dia ____/____/____.



Dividindo doces

Quanto é a METADE de:


8 



10 



18 



ESTE ESPAÇO É PARA VOCÊ RESOLVER O DESAFIO

